



COLEGIO INFANTIL DE APRENDIZAJE Y DESARROLLO

Día: 24 Marzo del 2020

Grado: Quinto

Profesora: Johana López

Área: Artística


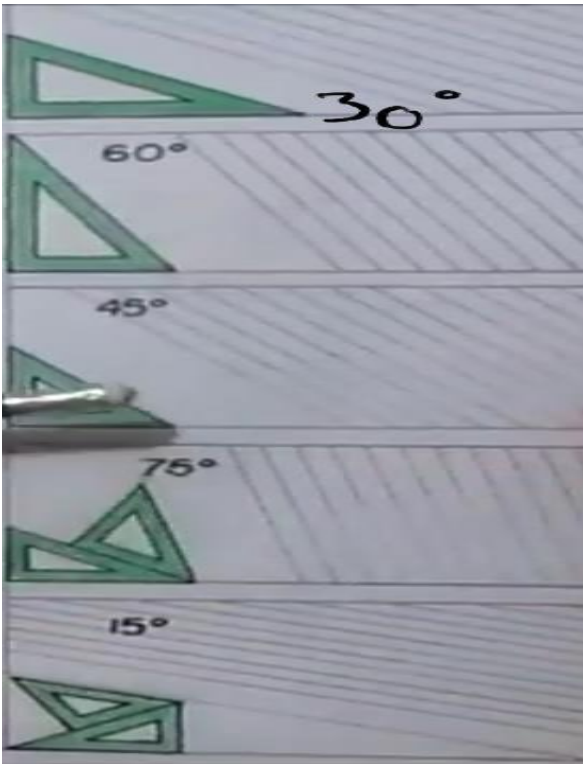
Nombre:

GUÍA DE ARTÍSTICA

Realiza la actividad en el cuaderno, luego toma foto y envía al correo johana@colegioinfantildeaprendizajeydesarrollo.com fecha límite de presentación 30 de Marzo del 2020. Guarda la guía para luego entregarla a la docente.

Logro 2: Hace uso correcto de la regla, escuadra y otros instrumentos para realizar diferentes trazos.

1. En la hoja dina 4 realiza una muestra de cada ángulo de 30° , 40° , 60° , 45° , 75° , 15° , 90° con la escuadra. Dividiendo el formato en 6 partes iguales para cada muestra. Como lo muestra la guía y el video <https://youtu.be/s91USyO0auw> "Dibujo Técnico- ángulos que se obtienen empleando las escuadras".





COLEGIO INFANTIL DE APRENDIZAJE Y DESARROLLO

Día: 24 Marzo del 2020


Grado: Quinto

Profesora: Johana López

Área: Artística

Nombre:

2. Realiza la siguiente plancha en hoja Dina 4, utilizando la regla T y las escuadras. Observa el video <https://youtu.be/p6KmdEEUh0M> "Ángulos 30° 150°". Realizar líneas de 1cm de forma diagonal iniciando por la izquierda y luego 1cm de forma diagonal iniciando por la derecha. Cómo se indica en el video.





COLEGIO INFANTIL DE APRENDIZAJE Y DESARROLLO

Día: 24 Marzo del 2020

Grado: Quinto

Profesora: Johana López

Área: Artística

Nombre:

3. Realiza la siguiente plancha en hoja Dina 4, utilizando la regla T y las escuadras. Observa el video <https://youtu.be/kCtt0gcDiYA> "Dibujo líneas a 45 grados equipo". Dividir el formato en 4 partes, luego cada parte lo dividiremos en dos y marcamos 1cm en la línea del medio, Realizar líneas de 1cm de forma diagonal iniciando por la izquierda y luego 1cm de forma diagonal iniciando por la derecha, medio formato, al finalizar trazamos mitad en cada cuadro y marcamos 5ml y realizamos el mismo procedimiento.

Luego la otra mitad del formato ubica la regla a 45° y traza la línea en cada cuadro tanto izquierda como derecha, luego marca 1 cm en cada parte de los trazos marcados, utiliza la regla T para realizar las líneas verticales y horizontales. Cómo se indica en el video.

